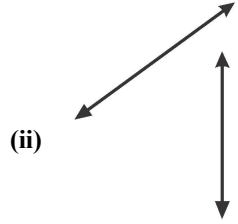
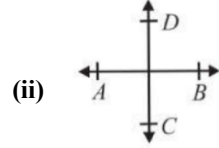
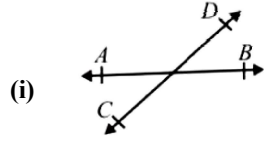


Time: 10 Minutes	Paper Math 6 (T-1)	Total Marks: 10
5th Month, 1st Week, 3rd Day	Exercise 9.2 Q # (1, 2)	

☆ Answer the following questions: درج ذیل سوالات کے جواب دیں۔

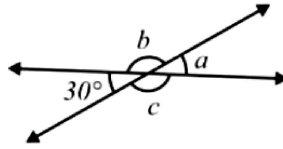
Q.1. Identify the parallel, intersecting and perpendicular lines. (2x3=6)

درج ذیل میں سے متوازی، قاطع اور عمودی لائنز کی نشاندہی کریں۔



Q.2. Find the unknown angles of the intersecting lines. (1x4=4)

قطع کرنے والے خطوط میں نامعلوم زاویوں کی قیمت معلوم کریں۔

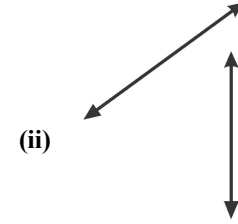
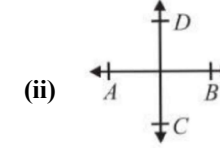
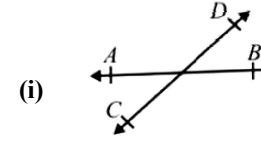


Time: 10 Minutes	Paper Math 6 (T-1)	Total Marks: 10
5th Month, 1st Week, 3rd Day	Exercise 9.2 Q # (1, 2)	

☆ Answer the following questions: درج ذیل سوالات کے جواب دیں۔

Q.1. Identify the parallel, intersecting and perpendicular lines. (2x3=6)

درج ذیل میں سے متوازی، قاطع اور عمودی لائنز کی نشاندہی کریں۔



Q.2. Find the unknown angles of the intersecting lines. (1x4=4)

قطع کرنے والے خطوط میں نامعلوم زاویوں کی قیمت معلوم کریں۔

